

## Задания викторины для младших школьников «ПДД – мои друзья!»

1. Свой автобус нужно ждать...





- а) в любом месте;
- б) на проезжей части;
- в) в специально оборудованных местах, на остановках;
- г) на обочине.

2. Где можно переходить проезжую часть автомобильной дороги, если нет пешеходного перехода?

- а) перед автобусом;
- б) сзади автобуса;
- в) где захочется;
- г) все варианты верны.

3. Какой дорожный знак, установленный у дороги возле школы, позволяет безопасно пересекать проезжую часть?



4. Кто является участником дорожного движения.

- а) пешеходы;
- б) водители;
- в) велосипедисты;
- г) все перечисленные.

5. Кто регулирует движение на дороге, когда светофор не работает?



- а) полицейский;
- б) регулировщик;
- в) дорожный рабочий;
- г) водители.

6. В какое время нужно соблюдать ПДД?

- а) в темное время суток;
- б) всегда;
- в) во время прогулок с родителями;
- г) во время каникул.

7. Пассажир – это:




- а) человек, который ходит пешком;
- б) человек, который управляет транспортным средством;
- в) человек, который находится в транспортном средстве, кроме водителя;
- г) все ответы не верны.

8. Как велосипедист должен информировать других участников движения о намерении остановиться?

- а) вытянуть руку налево;
- б) поднять руку вверх;
- в) посигналить;
- г) никак не должен.

9. Как называется дорожка, по которой пешеход должен переходить дорогу, не нарушая правил дорожного движения?



- а) енот;
- б) тигр;
- в) зебра;
- г) кошка.

10. Куда нужно смотреть при переходе дороги?

- а) сначала налево, а с середины дороги – направо;
- б) все время налево;
- в) направо, а затем налево;
- г) прямо перед собой.

11. Можно ли выбегать на проезжую часть?



- а) можно, если нет машин;
- б) можно, если захотелось;
- в) можно, если сильно торопишься;
- г) ни в коем случае нельзя.

12. Какие автомобили могут ехать на красный сигнал светофора?

- а) грузовые машины;
- б) легковые машины;
- в) машины специального назначения;
- г) все варианты верны.

13. С какого возраста разрешается езда на велосипеде по дорогам?



- а) с 10 лет;
- б) с 12 лет;
- в) с 14 лет;
- г) с 16 лет.

14. Когда нужно пристегиваться ремнями безопасности в автомобиле?

- а) никогда;
- б) всегда;
- в) если потребует водитель;
- г) только при въезде в город.

15. Что обозначает этот дорожный знак?



- а) футбольный стадион;
- б) жилая зона;
- в) место для стоянки машин;
- г) все варианты неверны.

16. Когда опаснее всего переходить дорогу?

- а) рано утром;
- б) в вечернее и ночное время;
- в) во время летнего зноя;
- г) в дождливую погоду.

17. Что означает загоревшийся правый поворотник автомобиля?

- а) автомобиль поворачивает налево;
- б) автомобиль останавливается;
- в) автомобиль поворачивает направо;
- г) автомобиль продолжает движение прямо.

**18.** Назовите элементы дороги в городе.



- а) проезжая часть, тротуар, разделительная полоса;
- б) улица, кювет, велосипедная дорожка;
- в) шоссе, обочина, пешеходный переход;
- г) проезжая часть, кювет, обочина.

**19.** Какие виды транспорта относятся к городскому общественному транспорту?

- а) телега, мотоцикл, электричка;
- б) самолет, поезд, теплоход
- в) автобус, троллейбус, грузовик;
- г) троллейбус, автобус, трамвай.

**20.** Какой из сигналов светофора является предупреждающим?

- а) зеленый;
- б) желтый;
- в) красный;
- г) все сигналы предупреждающие.